

Semaine des  
mathématiques

Total	/40
-------	-----

Bonus	/10
-------	-----

# Rallye mathématiques

## « Mathématiques en forme(s) »

### CP-Mars 2022





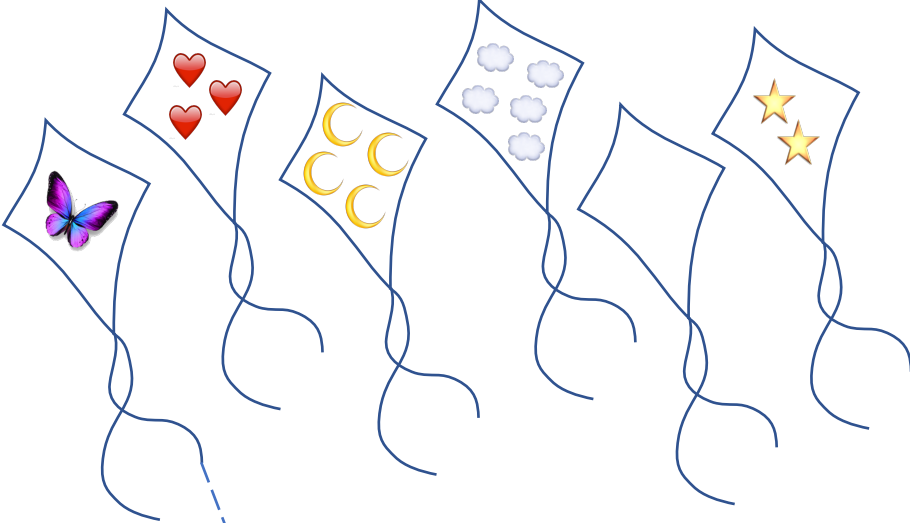






	CP1	CP2	CP3
Nom (élève)			
Prénom (élève)			
Enseignant de l'élève			

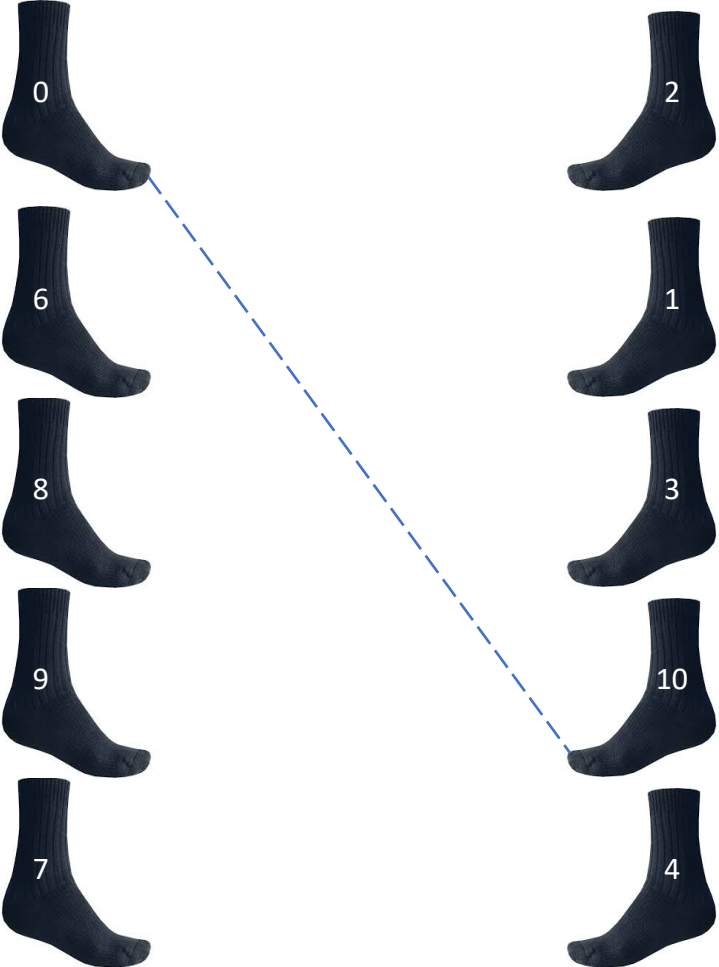
**Partie 1 : Oral (15 min)**


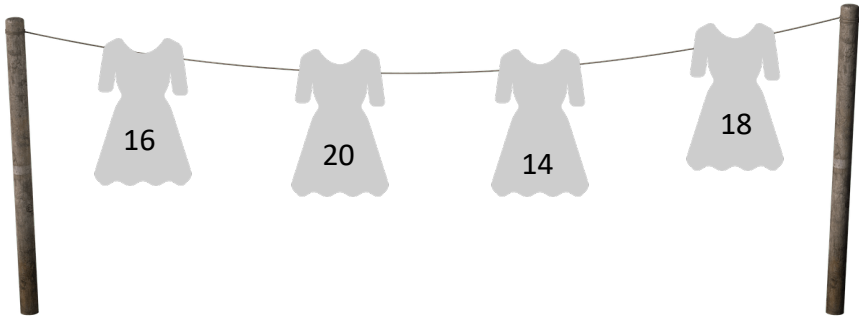
A	B	C	D	E
F	G	H	I	J

Total 1	/10
---------	-----

Point	N°		Correcteur						
3	1	<p><b>Colorie le bon nombre</b></p> <table border="1"> <tr> <td>6</td> <td> </td> </tr> <tr> <td>10</td> <td> </td> </tr> <tr> <td>4</td> <td> </td> </tr> </table>	6		10		4		
6									
10									
4									
2,5	2	<p><b>Combien faut-il ajouter de briques pour compléter le mur ?</b></p>							
4	3	<p><b>Complète le dernier dessin</b></p>							
2,5	4	<p><b>Qui a gagné ?</b></p> <p align="center">Ali                      Anne</p>	<hr/>						

Point	N°		Correcteur
3	5	<p><b><u>Ecris le dernier nombre</u></b></p> <p>28 – 26 – 24 – 22 – </p> <p>7 – 9 – 11 – 13 – </p> <p>30 – 35 – 40 – 45 – </p>	
3	6	<p><b><u>Le nombre caché</u></b></p> <p>Je suis plus grand que 20 Je suis plus petit que 30 Mon chiffre des unités est plus grand que 8</p>	<p>Je suis</p> 
4	7	<p><b><u>Relie le cerf-volant à son étiquette</u></b></p>  <p>     </p>	

4	8	<p><b>Accroche les chaussettes par paire. Chaque paire doit faire 10</b></p> 	
---	---	--	--

4	9	<p><b>Colorie le plus petit</b></p>  <p><b>Colorie le plus grand</b></p> 	
---	---	---	--

BONUS

## Le chemin du 4

→ Colorie les cases uniquement si le résultat est 4. Un chemin va se dessiner.

	$2 + 2$	$1 + 2$	$3 + 1$	$5 - 1$	$6 - 2$	$2 - 1$	$5 - 2$
$3 + 2$	$1 + 3$	$3 + 2$	$2 + 2$	$4 + 1$	$7 - 3$	$3 - 1$	$3 - 2$
$4 + 1$	$2 + 2$	$1 + 3$	$4 + 0$	$1 + 1$	$8 - 4$	$3 + 1$	$2 + 2$
$6 - 1$	$7 - 2$	$5 + 2$	$4 + 2$	$6 + 1$	$4 - 1$	$8 - 3$	$3 + 1$
$6 - 2$	$5 - 1$	$4 \times 1$	$4 + 0$	$2 \times 2$	$7 - 3$	$6 - 2$	$4 + 0$
$10 - 6$	$7 - 1$	$5 - 2$	$2 - 1$	$2 + 1$	$2 \times 1$	$8 + 1$	$2 + 1$
$8 - 4$	$7 - 3$	$4 \times 1$	$2 \times 2$	$3 + 1$	$2 + 2$	$6 - 2$	$9 - 5$
$1 + 2$	$3 + 2$	$2 - 1$	$5 - 2$	$2 + 1$	$3 + 2$	$4 + 1$	$5 - 1$
$3 \times 2$	$2 \times 1$	$2 \times 3$	$3 \times 2$	$2 \times 5$	$4 \times 2$	$2 \times 1$	$2 \times 2$